

Вадюгов

Сайфулла 6, А класс.

665

1. Выберите верные утверждения

1. Первобытный человек не изготавливал составные орудия труда из камня и дерева.

+ ✓ 2. Метание копья входило в программу древних Олимпийских игр.

3. Союзником Афин в Пелопоннесской войне была Спарта.

+ ✓ 4. Народные трибуны в Древнем Риме обладали правом наложить вето на любой закон, который ущемлял права плебеев.

5. Объединение Верхнего и Нижнего Египта произошло при Рамсесе II.

+ ✓ 6. По одной из версий, сильнейший римский пожар был устроен по приказу императора Нерона.

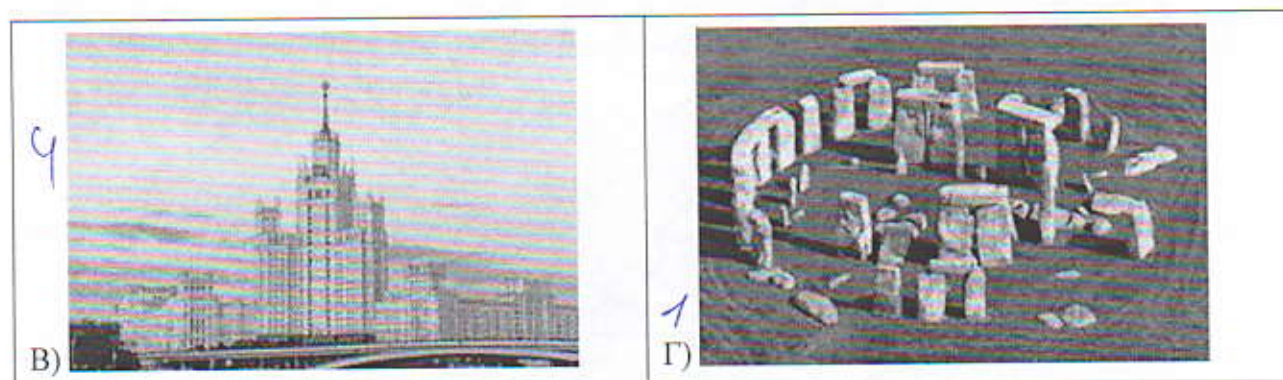

7. Первым принцепсом в истории Рима стал Гней Помпей.

+ ✓ 8. С крушением Западной Римской империи историки связывают начало Средних веков.

95 - ✓ 9. Основателем династии Каролингов был Карл Великий.

+ ✓ 10. Одними из изобретателей письменности считаются шумеры.

Ответ: Установите последовательность создания представленных на иллюстрациях памятников архитектуры в хронологическом порядке от раннего к позднему.



Г А Б В Е Г А  
+ + - - +



**4.1.** Выберите имена легендарных исторических деятелей, связанных с основанием столицы государства, границы которого обозначены на схеме фиолетовым цветом.

1. Рюрик
2. Рем ✓
3. Ромул
4. Дир ✓
5. Константин
6. Лотарь ✓

15

**4.2.** Укажите цифру, обозначающую на схеме город, которому посвящены следующие строки автора V века:

«Покорён город, которому покорялась земля!»

Ответ: 1. 35

**Ответ:**


**4.3.** Выберите верные утверждения.

1. На схеме обозначены события, связанные с Великим переселением народов.
2. Фиолетовой границей на схеме обозначены территории, входившие в состав государства в период правления Александра Македонского.
- + ✓ 3. Часть территорий, зависимых от данного государства, входит в состав современной России.
- + ✓ 4. На схеме обозначены древнегреческие города-государства.
5. На схеме обозначено место сражения войск Юлия Цезаря с галльскими племенами.
- + ✓ 6. На схеме присутствует регион, получивший условное название Плодородный полумесяц.
7. Стрелками на схеме обозначены походы Кира Великого.
- + ✓ 8. На схеме обозначен Вал Адриана.
- ✓ 9. На схеме обозначена столица Ассирийской империи.
- + ✓ 10. Территории, обозначенные на схеме жёлтым цветом, уже входили в состав данного государства на момент начала правления императора Октавиана.
- + ✓ 11. Одно из морей, обозначенных на схеме, прежде назвалось Негостеприимным морем.
- ✓ 12. Оранжевым, жёлтым, зелёным и фиолетовым цветами на схеме обозначены страны, образовавшиеся при распаде государства, границы которого обозначены на схеме фиолетовой линией.

145

**Ответ:**

**4.4.** Выберите изображения, относящиеся к истории государства, границы которого обозначены на схеме фиолетовой линией.



Ответ:

4.5. Выберите изображение, на котором отражены события, связанные с историей России.

Ответ:

5 Прочитайте фрагмент текста и ответьте на вопросы.

Считается, что род Меровингов, от которого обыкновенно производили себя франкские короли, существовал вплоть до царствования Хильдерика, который по приказу римского папы Стефана был низложен, пострижен и препровождён в монастырь. Давно в роду том не было никакой жизненной силы, и ничего замечательного, кроме пустого королевского звания. Дело в том, что и богатство, и могущество короля держались в руках дворцовых управляющих, которых называли майордомами; им и принадлежала вся высшая власть.

Ничего иного не оставалось королю, как, довольствуясь царским именем, сидеть на троне с длинными волосами, ниспадающей бородой и, приняв вид правящего, выслушивать приходящих отовсюду послов; когда же послы собирались уходить – давать им ответы, которые ему советовали или даже приказывали дать, словно по собственной воле. Ведь кроме бесполезного королевского имени и содержания, выдаваемого ему из милости на проживание, очевидно, дворцовым управляющим, король не имел из собственности ничего, за исключением единственного поместья и крошечного дохода от него; там у него был дом и оттуда он [получал] для себя немногочисленных слуг, обеспечивающих необходимое и выказывающих покорность. А руководство королевством и всем, что надо

было провести или устроить дома или вне его, осуществлял майордом.

**5.1.** Выберите верные суждения.

1. В тексте упоминается имя создателя Франкской империи.
- + ✓ 2. Согласно тексту, казна короля ограничивались незначительными собственными средствами.
- ✓ 3. Власть короля ограничивалась угрозой применения силы со стороны майордомов.
- + ✓ 4. В тексте упоминается титул высшего духовного лица западнохристианской церкви.
- + ✓ 5. Согласно позиции автора, династия Меровингов утратила реальную власть задолго до своего низложения.
- 185 + ✓ 6. Столицей государства в период правления следующей после упомянутой в тексте династии был Париж.
- + ✓ 7. Согласно тексту, у короля были подданные, которые беспрекословно ему подчинялись.
- + ✓ 8. В тексте упоминается последний правитель из династии Меровингов.
9. Упомянутые в тексте майордомы также были обязаны давать ответы приходящим послам.
10. Основатель династии, которая упоминается в тексте, одержал победу в битве при Суассоне.

**Ответ:**

**5.2.** Выберите памятники культуры, возникшие в результате культурного подъёма во время правления династии, сменившей Меровингов на троне.

1. Утрехтская псалтирь
2. Базилика Сан-Витале
- ✓ 3. Пантеон
- + ✓ 4. Дворцовая капелла в Ахене
5. Мавзолей Теодориха
6. Кодекс Юстиниана

**Ответ:**

**6 (12).** Выберите изображения, связанные с событиями Великой Отечественной войны.



3) 	4) ✓  ✓
5) 	6) ✓  ✓
7) 	8) ✓  ✓

1005  
Ответ: